



Corona-Ordner Teil2

der Klasse 2c im Zeitraum vom

11.01.-15.01.2021

Hier ist der nächste Teil für das selbstständige Lernen zu Hause. Wie bisher können Sie mich unter „philippcwestphal@gmx.de“ erreichen und die Aufgaben zurückschicken.

Am Dienstag (12.01, ca 8 Uhr – 12 Uhr) bin ich auch in der Schule und ich kann auf dem Schulhof einzeln mit Ihnen sprechen und Aufgaben entgegennehmen.

Der Unterricht in der Schule beginnt wahrscheinlich (Stand Freitag) am 18.01. in geteilten Klassen.

Bitte schauen Sie auch auf der Homepage nach.

www.charlie-chaplin-grundschule.com

Mit Fragen und Anmerkungen können Sie sich gerne an mich wenden (philippcwestphal@gmx.de) oder sich zum Telefonat mit mir verabreden. Des Weiteren werde ich versuchen, jeden Schüler mehrmals zu kontaktieren.

Mit freundlichen Grüßen, Philipp Westphal

Bleiben Sie gesund!

Liebe Kinder,

Die meisten von Euch waren sehr fleißig und haben mir die Aufgaben geschickt. 😊

Hier sind neue Aufgaben für das Lernen und Arbeiten zu Hause. Ich hoffe, wir sehen uns ab dem 18.01. wieder in der Schule.

Für die ganz Fleißigen gibt es hinten Zusatzaufgaben!

Bleibt gesund und bleibt fleißig,


Euer Herr Westphal

11.01.2021 Hallo, diese Woche geht es um das Ä/ä. Wir kennen es schon von den Äpfeln in unserem Apfelprojekt. Es klingt ähnlich wie das E/e aber doch ganz anders.

Auch beim Zähneputzen taucht ein Ä/ä auf.



Darum geht es heute um Zähne. Lest die Rätselkarten und kreuzt die richtige Antwort an.



Zahn-Rätsel von Kindern

Wie oft soll man sich täglich die Zähne putzen?

- einmal
- gar nicht
- dreimal
- nach jedem Essen

der Zahn
die Zähne

der Apfel
die Äpfel

der Saft
die Säfte

der Bär
das Bärchen

der Käse


Was ist für die Zähne schädlich?

Fruchtsäfte	Wasser
Birnen	Gummibärchen
Käse	Nüsse

Wie viele Zähne hat ein Kind?

Tipp: Zähle deine Milchzähne!

- 20 Zähne
- 10 Zähne
- 12 Zähne



Fruchtsäfte
Frucht – Säfte

Milchzähne
Milch – Zähne

Gummibärchen
Gummi – Bärchen

Aufgabe 2 – Matheaufgaben:

Informationen aus Texten entnehmen (1)

lila: In der Klasse 2a sind 26 Kinder. In der Klasse 2b sind es 28.

blau: In der Pause essen von 54 Kindern 15 Kinder Obst. 18 Kinder essen Brote und 10 Kinder essen Müsli-Riegel. Die anderen Kinder essen nichts.

gelb: Am Sporttag der 2. Klassen gehen 15 Kinder ins Freibad und 17 Kinder auf den Sportplatz. 18 Kinder gehen zum Turnen in die Sporthalle. Einige Kinder sind krank.

- 1 Male jedes Kärtchen in der Farbe des Zettels aus, auf dem du die passende Information findest.

15 Kinder essen in der Pause Obst. In der Klasse 2a sind 26 Kinder.

Einige Kinder sind krank. Einige Kinder essen in der Pause nichts.

In der Klasse 2b sind 28 Kinder. Am Sporttag gehen 18 Kinder zum Turnen in die Sporthalle.

Am Sporttag gehen 15 Kinder ins Freibad. 18 Kinder essen in der Pause Brote.

- 2 Auf den Zetteln findest du weitere Informationen. Ergänze die Aussagen.

a) Auf dem roten Zettel:

In der Klasse 2b sind Kinder.

In der Klasse 2a sind Kinder weniger als in der Klasse 2b.

b) Auf dem blauen Zettel:

In der Pause essen Kinder Müsli-Riegel.

Kinder mehr essen Brote.

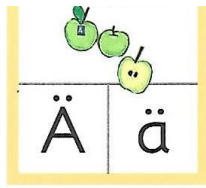
c) Auf dem gelben Zettel:

Am Sporttag gehen Kinder auf den Sportplatz.

Am Sporttag gehen Kinder mehr auf den Sportplatz als ins Freibad.

12.01.2021

Spure nach und fülle aus.



- der Bär
- der Ball



- der Käfer
- der Käfig



Einzahl

Mehrzahl



ein Ball



viele Bälle




ein Zahn




ein Ast



eine Gans



Ja oder nein?



ja nein

Abends muss man Zähne putzen.

Danach darf man noch was Süßes essen.

Vom Süßen kann man Löcher bekommen.



Aufgabe 2

Lies dir die Aufgaben aufmerksam durch und berechne das Ergebnis.

Micha kauft sich für 4 Euro ein neues Lineal und vier Stifte für je 2 Euro.
Wie viel muss er bezahlen?

Rechnung: $4 + 2 + 2 + 2 + 2 = 12$

Antwort: **Micha muss 12 Euro bezahlen.**

Mama kauft Blumen für den Garten. Sie nimmt 12 rote, 16 gelbe und 24 orange Primeln. Wie viele Blumen hat sie insgesamt gekauft?

Rechnung:

Antwort:

Papa streicht den 21 m langen Gartenzaun. Gestern hat er 7 m geschafft. Heute sollen es 11m sein. Wie viele Meter muss er morgen noch streichen?

Rechnung:

Antwort:

Leni bekommt 14 Bonbons geschenkt, die Hälfte gibt sie ihrer Schwester und 2 isst sie dann sofort auf. Wie viele bleiben für Leni noch übrig?

Rechnung:

Antwort:

13.01.2021



Heute ist lesen dran! Lies den Text mehrmals, mindestens ein mal vor dem Mittag und einmal nach dem Mittag.

Zahnrekorde im Tierreich

Hättest du das gewusst?



Die härtesten Zähne aller Tiere hat tatsächlich eine kleine Maus! Ihre Zähne sind beinahe so hart wie ein Diamant.



Kaum zu glauben, denn nicht die größten Tiere haben auch die meisten Zähne. Das Gürteltier hält den Weltrekord mit 104 Zähnen!



Der Ameisenbär muss ganz ohne Zähne auskommen. Sein „Rüssel“ ist nämlich eigentlich eine Schnauze. Mit ihr saugt er Ameisen, Termiten und Käfer aus Löchern.

Fällt dem Elefanten ein Zahn aus, kommt dort ein neuer Zahn. Und das ist sogar viermal möglich!



der Bär
der Ameisenbär

ich halte
er hält

ich falle
er fällt

hart
härter
am härtesten

tatsächlich
nämlich

ZAHNARZT



Erstelle eine Rätselkartei zu den Tierrekorden.
Zum Beispiel:


Welches Tier hat die härtesten Zähne?

- eine Maus
- ein Wal
- ein Hund

ECKZAHN

Aufgabe 2: Ergänze die Sätze!

Informationen aus Texten entnehmen (3)



1 Ergänze die Sätze.

- a) Lea _____ hat 10 Euro geschenkt bekommen. Zuvor hatte sie Euro.
- b) _____ hat jetzt 40 Tierpostkarten. Vor einem Monat waren es .
- c) _____ braucht für den Schulweg 15 Minuten. Wenn er sich beeilt, benötigt er Minuten für den Schulweg.
- d) _____ hat bei einem Fußballturnier in 5 Spielen mitgespielt. Bei Spielen war er nicht dabei.
- e) _____ hat bereits 30 Sticker gesammelt. Insgesamt gibt es verschiedene Sticker.
- f) _____ hat zum Geburtstag 8 Kinder eingeladen. Im letzten Jahr durfte sie Kinder einladen.

14.01.2021 Welcher Buchstabe fehlt? Ä/ä oder E/e? ergänze und schreibe ab!

Vog__l

→

Mütz__

→

M__rz

→

K__nguru

→

mach__n

→

K__fig

→

L__rm

→

M__ensch

→

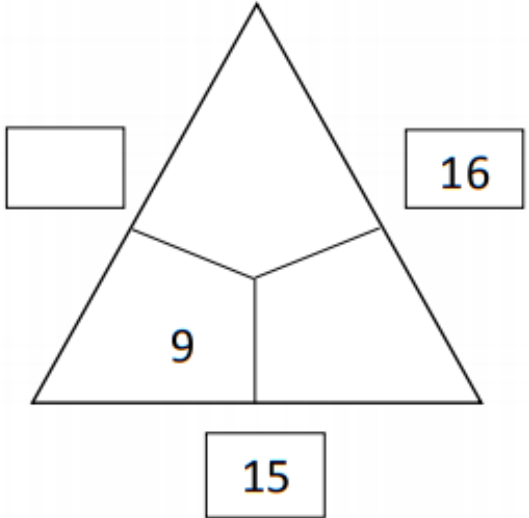
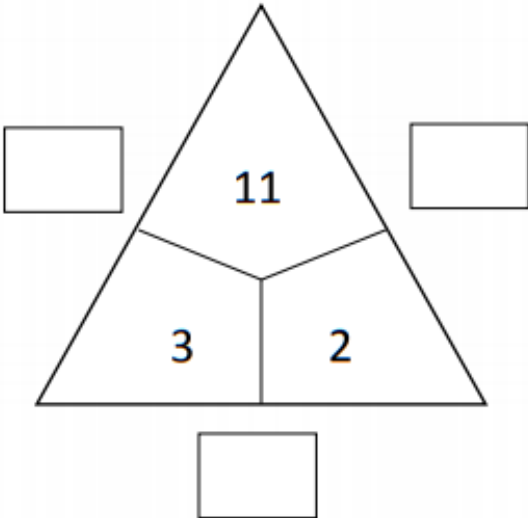
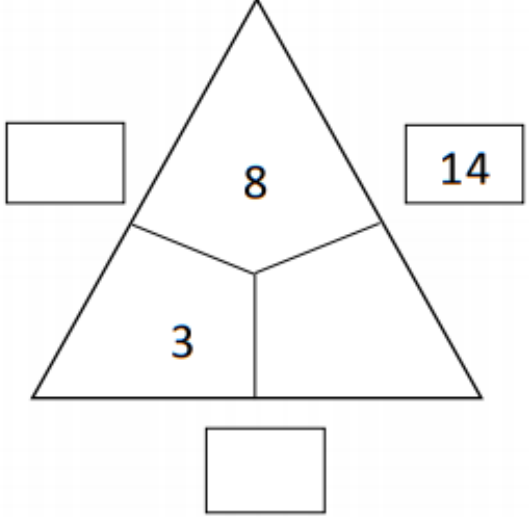
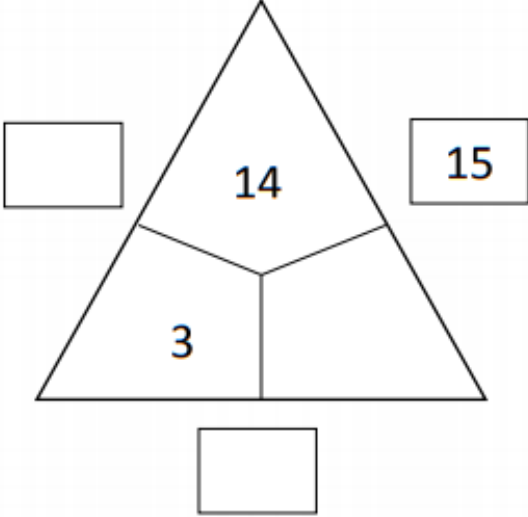
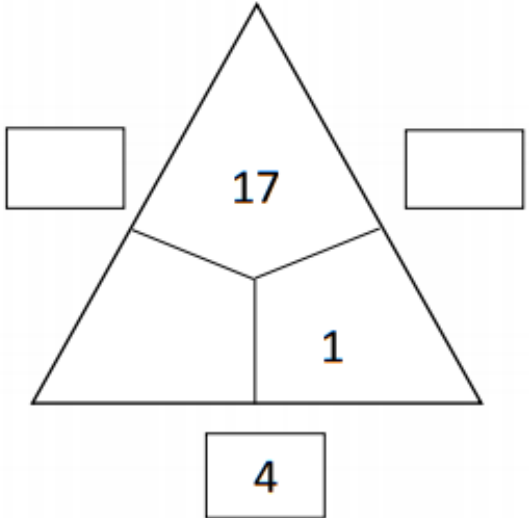
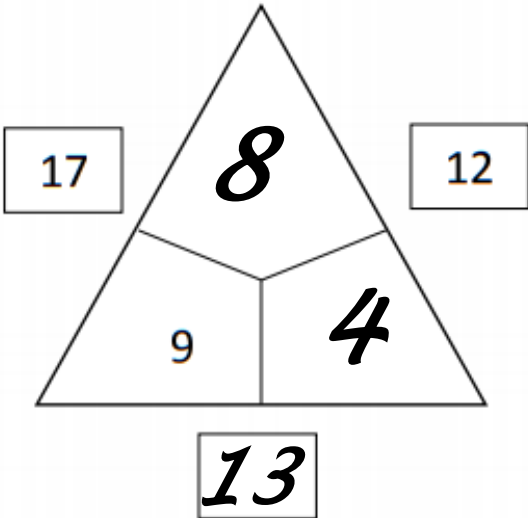
M____r

→

M__rchen

→

Aufgabe 2 Finde die fehlenden Zahlen. Zwei benachbarte Zahlen ergeben immer die Zahl im Kästchen.



15.01.2021



Welcher Textteil hat Dir am Mittwoch am besten gefallen?
Maus, Gürteltier, Ameisenbär oder Elefant? Schreibe den Teil von Deinem
Lieblingstier ab.

Aufgabe 2: einfach rechnen!

1)

$$\begin{array}{r} 23 \\ + 54 \\ \hline \square \\ \hline 77 \end{array}$$

2)

$$\begin{array}{r} 47 \\ + 52 \\ \hline \square \\ \hline \end{array}$$

3)

$$\begin{array}{r} 27 \\ + 62 \\ \hline \square \\ \hline \end{array}$$

4)

$$\begin{array}{r} 28 \\ + 72 \\ \hline \square \\ \hline \end{array}$$

5)

$$\begin{array}{r} 39 \\ + 45 \\ \hline \square \\ \hline \end{array}$$

6)

$$\begin{array}{r} 30 \\ + 66 \\ \hline \square \\ \hline \end{array}$$

7)

$$\begin{array}{r} 26 \\ + 67 \\ \hline \square \\ \hline \end{array}$$

8)

$$\begin{array}{r} 35 \\ + 65 \\ \hline \square \\ \hline \end{array}$$

9)

$$\begin{array}{r} 23 \\ + 69 \\ \hline \square \\ \hline \end{array}$$

10)

$$\begin{array}{r} 41 \\ + 46 \\ \hline \square \\ \hline \end{array}$$

11)

$$\begin{array}{r} 37 \\ + 49 \\ \hline \square \\ \hline \end{array}$$

12)

$$\begin{array}{r} 45 \\ + 45 \\ \hline \square \\ \hline \end{array}$$

Zusatzaufgaben:

Jetzt kennst Du alle Umlaute, das Ä/ä, Ö/ö und das Ü/ü! Aber hier ist was durcheinandergeraten, kannst Du den richtigen Umlaut finden?

1) Mütze

2) G_rtel

3) W_rfel

4) M_nze

5) L_ffel

6) K_rbis

7) Kopfh_rer

8) W_ste

9) H_tte

10) M_we

11) K_nig

12) M_nchen

13) W_rter

14) _rger

15) _l

16) W_stchen

17) F_ße

18) L_ge

19) T_r

20) B_ffel

21) Gef_hl

Suchsel zu Wörtern mit Umlauten

In der Suchsel sind 12 Wörter versteckt: ~~Blätter~~, Bälle, Wälder, Männer, Vögel, Frösche, Töpfe, Öfen, Wünsche, Tücher, Würste, Düfte

Markiere alle Wörter in der Suchsel rot.

B	L	Ä	T	T	E	R	R	A	T	X	Y	T	J	X
A	T	O	Y	A	T	Y	Y	K	V	Ö	G	E	L	K
X	S	J	X	Y	K	A	S	R	Y	A	S	X	O	A
D	A	W	Ü	N	S	C	H	E	K	T	X	K	T	J
A	S	D	T	D	R	X	R	O	J	Y	A	Y	Ü	R
K	T	K	A	Y	W	Ü	R	S	T	E	S	R	C	A
Y	R	Ö	J	X	Ä	J	S	K	Y	O	D	K	H	O
M	T	F	Y	R	L	R	X	K	T	Ö	P	F	E	R
Ä	Y	E	J	A	D	R	A	Y	S	D	D	Y	R	A
N	R	N	Y	O	E	Y	X	K	D	Y	O	R	Y	O
N	X	T	O	K	R	D	X	D	Ü	F	T	E	A	D
E	D	J	R	A	O	Y	A	Y	T	R	Y	T	Y	R
R	Y	Y	J	S	X	A	O	K	A	X	J	S	A	T
S	F	R	Ö	S	C	H	E	Y	T	S	Y	D	Y	J
D	O	A	Y	K	J	O	Y	X	J	B	Ä	L	L	E

Das Snowboard

Lies Dir den Text durch und setze die richtigen Umlaute ein. Viel Erfolg!

Zu Weihnachten hat Jannik ein neues Snowboard bekommen. Das ganze Jahr über war er h^öfllich zu seiner Oma, die ihn das gew^ünschte Geschenk gab. Jannik hat sich sehr gefreut und seiner Oma vor Freude viele K^üsschen auf der Wange gegeben.

Seit Weihnachten wacht Jannik jeden Morgen ganz fr^üh auf und schaut aus dem Fenster, ob es geschneit hat. Er m^öchte endlich raus auf dem Berg und sein Snowboard ausprobieren. Doch jeden Morgen ist er entt^äuscht, weil kein Schnee liegt.



Klaus, der j^üngste Onkel von Jannik, sp^ürt die Entt^äuschung seines Enkels. Eines Morgens ruft er bei Jannik an: "Hallo mein Enkel. Ich hab eine ^überraschung für dich. Nächstes Wochenende fahren wir gemeinsam in die Berge." Noch bevor Klaus seinen Satz beenden kann, ruft Jannik ganz laut "Jaaaaa". Er kann es nun nicht mehr erwarten, endlich sein sch^önes neues Snowboard einzuweihen. Klaus ist der beste Onkel der Welt.

Einzahl und Mehrzahl mit Umlauten

In diesem Arbeitsblatt sollst Du die Wörter in Einzahl oder Mehrzahl verwandeln.

Viel Spaß dabei!

1. Wie heißt die Mehrzahl von den folgenden Wörtern? Setze vor jedes Wort den richtigen Artikel.

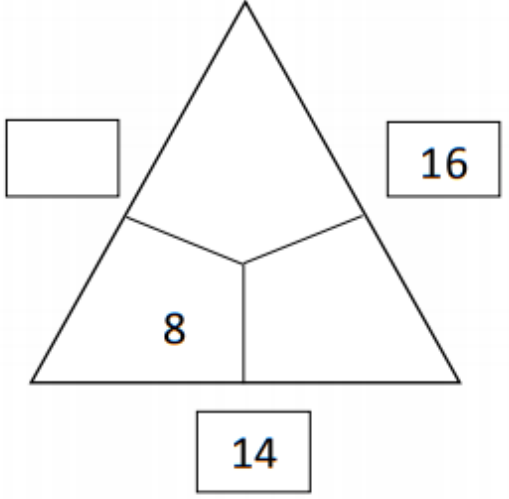
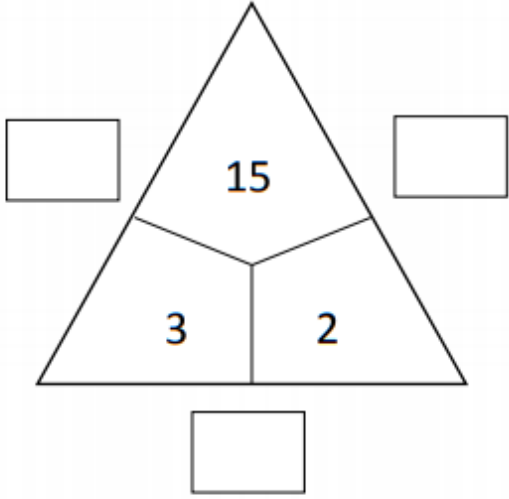
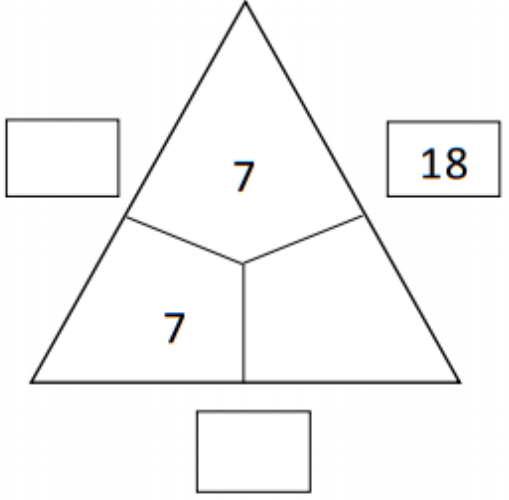
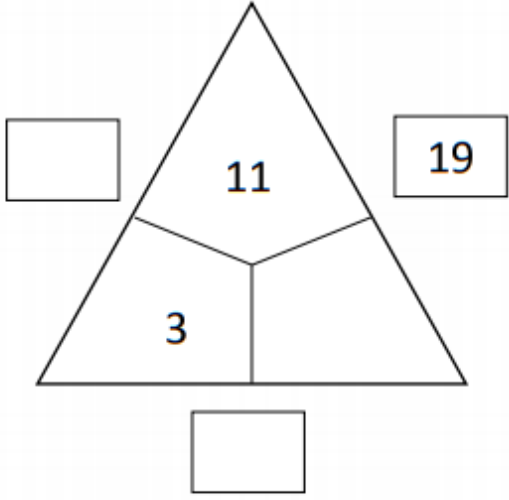
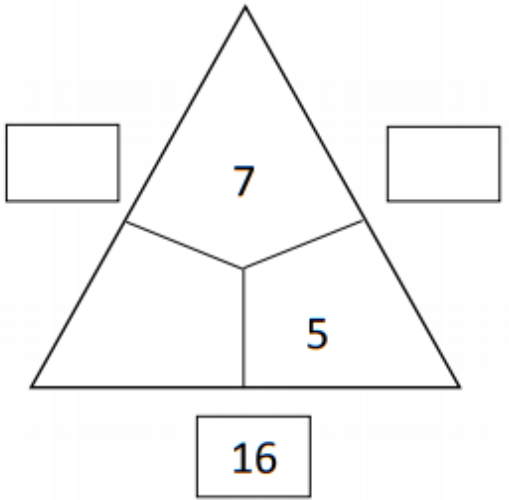
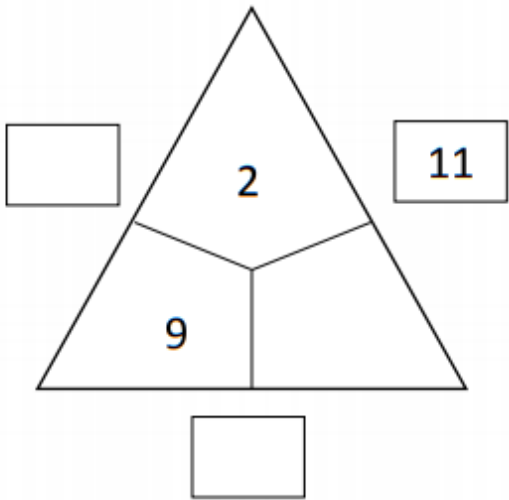
der Körper	-	die Körper
der Kopf	-	_____
die Möwe	-	_____
der Bär	-	_____
das Mädchen	-	_____
der Bach	-	_____
die Mühle	-	_____
die Überraschung	-	_____
der Fuß	-	_____

2. Mache aus der Mehrzahl der folgenden Wörter die Einzahl. Setze den richtigen Artikel vor das Wort.

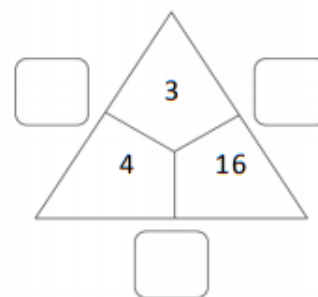
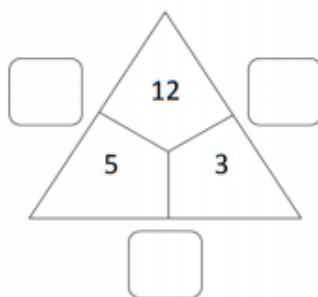
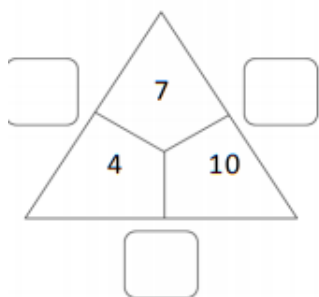
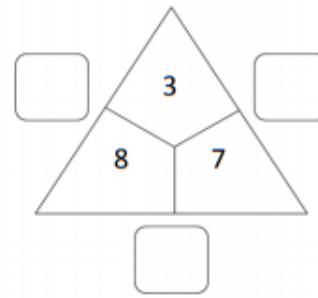
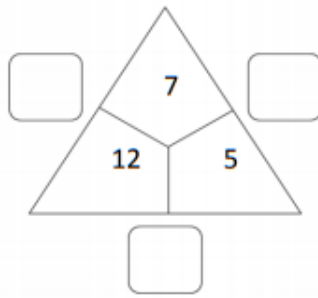
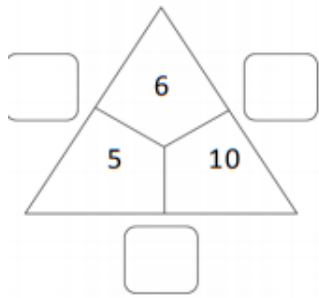
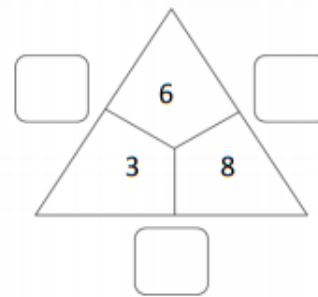
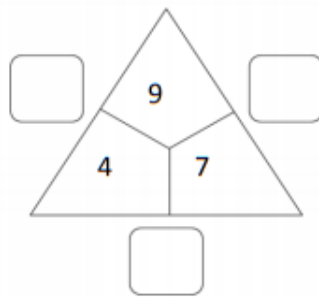
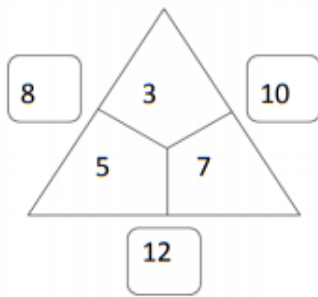
die Äste	-	der Ast
die Gäste	-	_____
die Löwen	-	_____
die Öle	-	_____
die Mütter	-	_____
die Hütte	-	_____



Rechendreieck wie am Donnerstag:



Rechendreieck wie am Donnerstag:



2. Wir üben rechnen.

$$5 + 8 = \underline{\quad}$$

$$12 + 5 = \underline{\quad}$$

$$8 - 3 = \underline{\quad}$$

$$14 - 8 = \underline{\quad}$$

$$12 + 5 = \underline{\quad}$$

$$7 - 3 = \underline{\quad}$$

$$11 + 6 = \underline{\quad}$$

$$8 + 5 = \underline{\quad}$$

$$19 - 11 = \underline{\quad}$$

$$16 - 4 = \underline{\quad}$$

- 1 Ergänze die Lücken, indem du die darüberstehende Zahl verdoppelst!

Die Zahl:	25	15	35	14	45	47
Das Doppelte:	50					

- 2 Ergänze die Lücken, indem du die darüberstehende Zahl halbst!

Die Zahl:	36	28	32	78	90	60
Die Hälfte:	18					

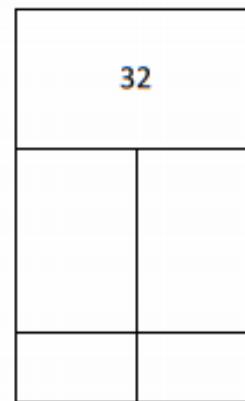
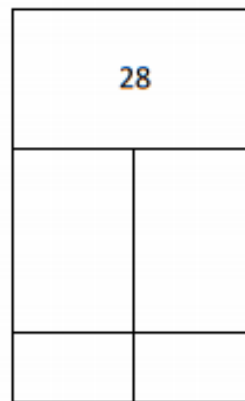
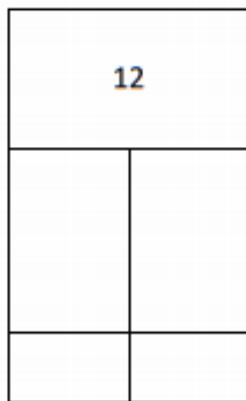
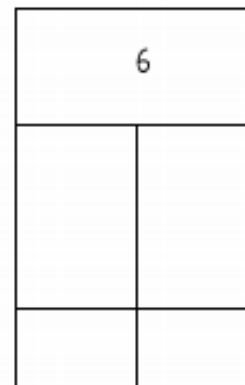

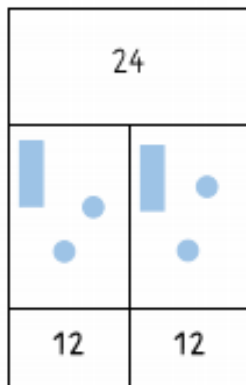
- 3 Ergänze die Lücken, indem du die darüber- oder darunterstehende Zahl verdoppelst oder halbst!

Die Zahl:	40		17			
Das Doppelte:		50		40	90	74

- 4 Ergänze die Lücken, indem du die darüber- oder darunterstehende Zahl halbst oder verdoppelst!

Die Zahl:		24	46			88
Die Hälfte:	20			12	16	

- 1 Ergänze die Lücken, indem du die darüberstehende Zahl halbst! Zeichne dann 10er Blöcke und 1er Punkte ein.



- 2 Berechne die Sachaufgabe!

Laura bekommt von ihren Eltern 40 Euro Taschengeld, gibt aber die Hälfte für Süßigkeiten aus.
Wie viel Geld hat sie noch?

Rechnung:

Lösung (ganzer Satz):
